

Nome _____ Data _____

Anno _____

I MESI DELL'ANNO



Gennaio porta il freddo, ma il nuovo anno è appena nato.

Febbraio col Carnevale, le maschere fa danzare.

Marzo arriva col vento e la primavera in un momento.

Aprile ride tra i fiori e colora tutti i cuori.

Maggio è un mese profumato, tutto è verde e incantato.

Giugno porta il solleone, vacanze e tuffi a più non posso!

Luglio e Agosto son bollenti, mare e giochi divertenti!

Settembre torna a studiare, ma l'autunno fa sognare.

Ottobre con foglie d'oro e castagne scalda il cuore.

Novembre è un po' piovoso, ma il Natale è ormai vicino.

Dicembre tutto brilla, tra regali e una scintilla!



IL TEMPO CHE PASSA

Nome _____

Data _____

Guarda l'immagine e rispondi alle domande

Anno _____

PASSATO PRESENTE FUTURO



1. Cosa sta facendo il bambino nel passato?
2. Quali differenze ci sono tra il passato e il presente?

L'OROLOGIO

Nome _____ Data _____

Anno _____

L'orologio è uno **strumento** che ci aiuta a **sapere che ora è**.
Esistono due tipi di orologi principali:

- Orologio **ANALOGICO**: ha un **quadrante** con dei numeri da 1 a 12 disposti in cerchio. Questi numeri indicano le ore. Ha una **lancetta** delle ore, una dei minuti e, a volte, una dei secondi.
- Orologio **DIGITALE**: mostra l'ora con numeri, per esempio 12:30.



OROLOGIO ANALOGICO



OROLOGIO DIGITALE

L'OROLOGIO ANALOGICO

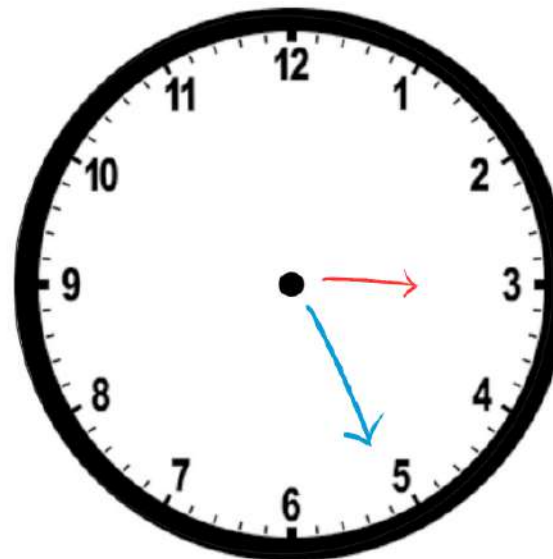
Nome _____ Data _____

Anno _____

Come è fatto un orologio analogico?

Un orologio analogico ha:

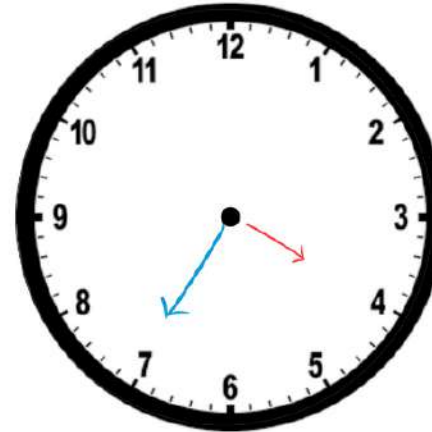
- I NUMERI: Da 1 a 12, che rappresentano le ore.
- Lancetta delle ORE: È la lancetta più corta e indica l'ora.
- Lancetta dei MINUTI: È più lunga e indica i minuti.
- Lancetta dei secondi (non sempre è presente): È ancora più sottile e segna i secondi.



COME SI LEGGONO LE ORE?

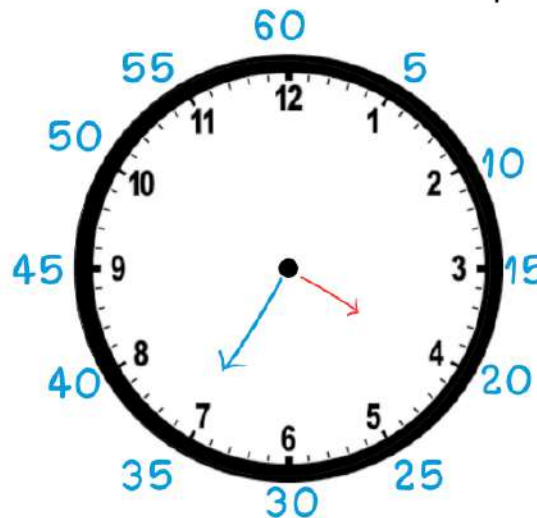
Nome _____ Data _____

Anno _____



Per leggere le **ORE**, guarda la lancetta più piccola.
Questa nell'esempio punta sulle 4, quindi sono le 4.

Per leggere i **MINUTI**, guarda la lancetta più lunga.
Ti ricordi la tabellina del 5? Guarda qui:



RICORDA

60 minuti formano un'ora!

Quando la lancetta dei **minuti** arriva sul **60**, la lancetta delle **ore** si muoverà in avanti di uno, passando all'ora successiva.

Sono le **4 e 35**

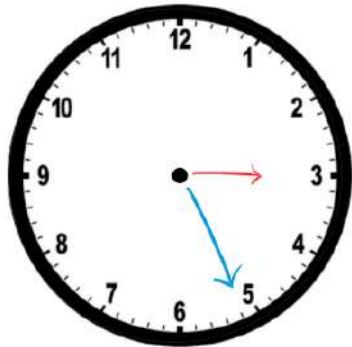
Si può scrivere anche **4:35**

CHE ORE SONO?

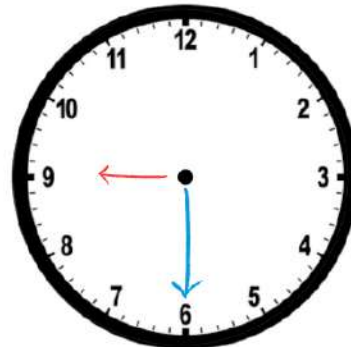
Nome _____ Data _____

Anno _____

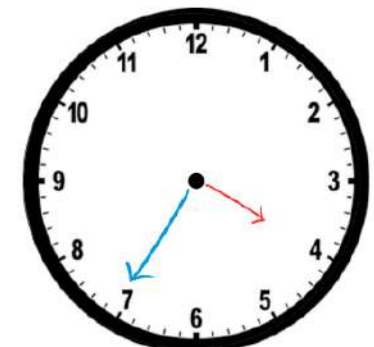
Guarda attentamente questi orologi e scrivi che ore sono.



.....



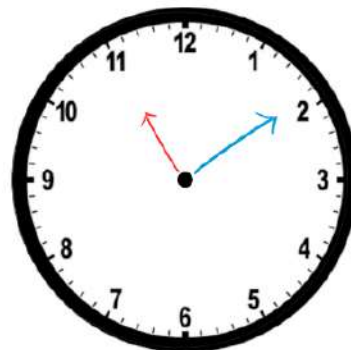
.....



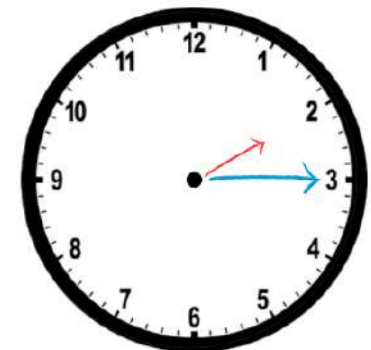
.....



.....



.....




.....

COMPLETA L'OROLOGIO

Nome _____ Data _____


Anno _____

Disegna le lancette al posto giusto.



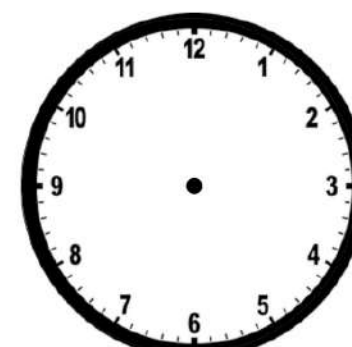
8 e 30

.....




4 e 20

.....




3 e 15

.....



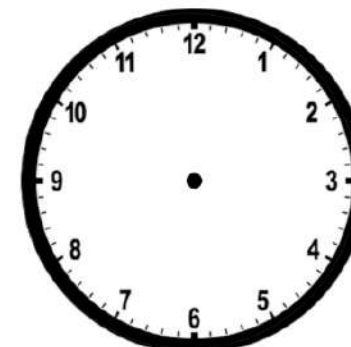
6 e 10

.....



5 e 25

.....



3 e 30

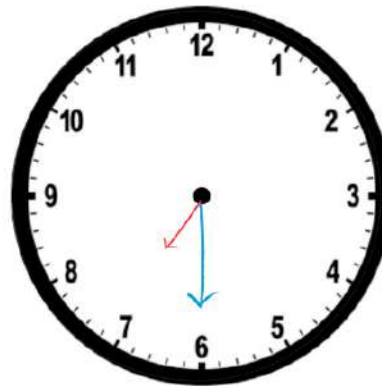
.....

LE ORE DEL GIORNO E DELLA SERA



Nome _____ Data _____

Anno _____ Un giorno è formato da **24 ore**, ma sull'orologio ci sono **solo 12 numeri**.
Guarda l'orologio dell'immagine: sta indicando le 7:30.
Come facciamo a capire sono le 7 del mattino o le 7 di sera?



Sull'orologio **ANALOGICO** non è possibile saperlo, ma sull'orologio **DIGITALE** spesso ci sono delle letterine in inglese (**AM** per la mattina e per tutte le ore dopo la mezzanotte, **PM** per il pomeriggio e per la sera. Ad esempio, **3:20 PM** indicherà le tre e venti del pomeriggio, mentre **7:00 AM** indicherà le 7 del mattino). In italiano puoi ricordare che **dopo mezzogiorno e fino ad arrivare a mezzanotte** le ore si pronunciano:

13:00 - 14:00 - 15:00 - 16:00 - 17:00 - 18:00 - 19:00 - 20:00 - 21:00 - 22:00 - 23:00 - 24:00

Dopo mezzanotte e fino a mezzogiorno, puoi usare di nuovo i numeri **da 1 a 12**.

LE CORRISPONDENZE

Nome _____ Data _____

Anno _____ Per aiutarti meglio a memorizzare le ore del pomeriggio e della sera, ecco le corrispondenze:

13:00 (l'una, ora di pranzo)

14:00 (le due del pomeriggio)

15:00 (le tre del pomeriggio)

16:00 (le quattro del pomeriggio)

17:00 (le cinque del pomeriggio, ora della merenda)

18:00 (le sei del pomeriggio)

19:00 (le sette di sera)


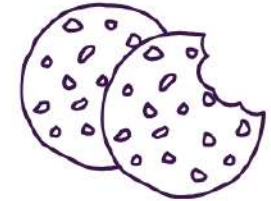
20:00 (le otto di sera, si cena!)

21:00 (le nove di sera, si va a letto!)

22:00 (le dieci di notte)

23:00 (le undici di notte)

24:00 (mezzanotte)




COMPLETA L'OROLOGIO

Nome _____ Data _____


Anno _____

Disegna le lancette al posto giusto.



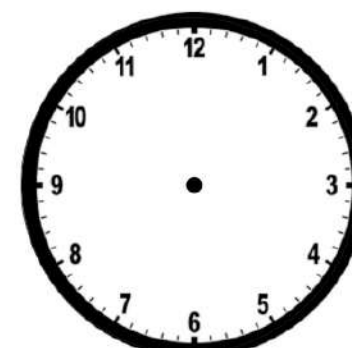
18:30

.....




16:15

.....




15:30

.....



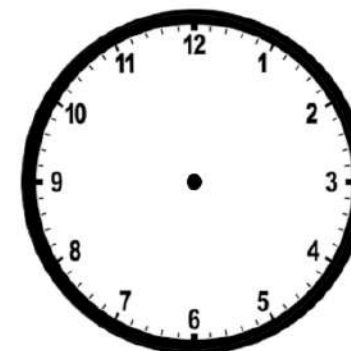
14:10

.....



13:25

.....



22:35

.....